

**LES 1 TABEL 1**

Activiteit	Stemmen
Barbecue	4
Klassendisco	5
Dierentuin	1
Speeltuin	3
Pretpark	4
Sportdag	3
Spelletjes middag	2
Fietstour	1
Zwemmen	5

Vraag: Hoeveel rijen heeft deze tabel? Hoeveel kolommen heeft deze tabel?

----- ✂

**LES 1 TABEL 2**

Jarigen	Jan.	Feb.	Mrt.	Apr.	Mei.	Jun.	Jul.	Aug.	Sept.	Okt.	Nov.	Dec.
Jongens	23	22	19	29	20	24	17	24	14	18	16	27
Meisjes	25	19	22	28	17	21	27	21	18	20	14	25

Vraag: Hoeveel rijen heeft deze tabel? Hoeveel kolommen heeft deze tabel?

----- ✂

**LES 1 TABEL 3**

UREN	04	05	06	07	08	09	10	11	12	13	14	15	16	17	18	19	20	21	22	23	24	00	01
MA. T/M VR.			48	03	06	06	02	02	02	01	01	01	01	14	14	03	00	28	28	28	28	28A	
				20	21	19	17	17	17	16	16	16	16	29	29	30	28	58	58	58	58		
				36	36	32	32	32	31	31	31	31	28	44	44		58						
				51	51	47	47	46	46	46	46	46	44	59									
ZA.			57	27	27	16	01	01	02	02	06	06	06	06	06	24	28	28	28	28	28	28A	
				57	57	31	16	16	17	17	21	21	21	21	26	54	58	58	58	58	58		
						46	31	32	32	36	36	36	36	36	54								
						46	47	47	51	51	51	51	51	51									
ZO. & FEEST				56	26	27	27	30	00	00	00	00	29	29	29	29	28	28	28	28	28	28A	
					56	57	57		30	30	30	30	59	59	59	59	58	58	58	58	58		

Vraag: Hoeveel rijen heeft deze tabel? Hoeveel kolommen heeft deze tabel?

----- ✂

**LES 1 TABEL 4**

Afstandstabel in kilometers	Beek	Dongel	Eekelen	Groes	Riviera
Beek	X	10	16	11	15
Dongel	10	X	8	21	15
Eekelen	16	8	X	9	7
Groes	11	21	9	X	12
Riviera	15	15	7	12	X

Vraag: Hoeveel rijen heeft deze tabel? Hoeveel kolommen heeft deze tabel?

----- ✂

**LES 1 TABEL 5**

17:23 Nijmegen Intercity	4a	17:17 Rotterdam Centraal Sprinter	4b
17:09 Enkhuizen + 10 minuten	5a	17:38 Maastricht Intercity	5b

Vraag: Hoeveel rijen heeft deze tabel? Hoeveel kolommen heeft deze tabel?

----- ✂

**LES 1 TABEL 6**

LEEFTIJD	LENGTE	HART VOLUME	GEWICHT	HAR QUOTIËNT
6 jaar	1,16 m	315 cc	20,7 kg	15,3
7 jaar	1,19 m	371 cc	22,8 kg	16,4
8 jaar	1,27 m	352 cc	25,9 kg	13,6
9 jaar	1,32 m	353 cc	25,3 kg	14,0
10 jaar	1,35 m	357 cc	29,0 kg	12,3
11 jaar	1,40 m	442 cc	34,3 kg	12,9
12 jaar	1,46 m	463 cc	37,0 kg	12,5

Vraag: Hoeveel rijen heeft deze tabel? Hoeveel kolommen heeft deze tabel?

----- ✂

**LES 1 TABEL 7**

	2002	2005	2009	2010	2011	2015
	%					
België	34	32	29	32	30	27
Luxemburg	2	3	2	2	1	2
Frankrijk	19	18	14	15	13	14
Groot-Brittanië	10	7	7	8	8	8
Duitsland	27	30	38	31	34	35
Overige landen	8	10	10	12	13	14
Totaal	100	100	100	100	100	100

Vraag: Hoeveel rijen heeft deze tabel? Hoeveel kolommen heeft deze tabel?

----- ✂

**LES 1 TABEL 8**

Ronde	Starttijd	Eindtijd	Veld A	Veld B
1	10:00	10:20	A1 - A2	A3 - A4
2	10:20	10:40	B1 - B2	B3 - B4
3	10:40	11:00	A5 - A3	A2 - A4
4	11:00	11:20	B5 - B3	B2 - B4
5	11:20	11:40	A1 - A4	A2 - A5
6	11:40	12:00	B1 - B4	B2 - B5

Vraag: Hoeveel rijen heeft deze tabel? Hoeveel kolommen heeft deze tabel?

----- ✂

### LES 1 TEKST A

De leerlingen van groep 8 van basisschool 'De slimme vogels' gaan op fietskamp. In de klas zijn ze bezig met de voorbereidingen. Shaquille zegt tegen Zev: "Van Eekelen naar Riviera is 7 kilometer fietsen. Dat is een stuk korter dan van Eekelen naar Beek!"

**Vraag:** *Hoeveel kilometer is het fietsen van Groes naar Dongel?*

----- ✂

### LES 1 TEKST B

Melvin gaat elk jaar naar de dokter. De dokter houdt de groeiontwikkeling van Melvin bij in een tabel. Melvin was 1 meter en 27 centimeter lang toen hij 8 jaar was en hij woog toen 25,9 kilo. Nu is Melvin 12 jaar. Hij is 1 meter en 46 centimeter lang en weegt hij 37 kilo.

**Vraag:** *Wat woog Melvin toen hij 10 jaar was?*

----- ✂

### LES 1 TEKST C

In 2015 was Duitsland de meest populaire bestemming voor Nederlanders die graag een korte vakantie naar het buitenland wilden. De populariteit van België is na 2010 afgenomen (gedaald).

**Vraag:** *Wat betekent 100 in de rij 'Totaal'? Kun je aflezen hoeveel mensen naar Duitsland gingen in 2015?*

----- ✂

### LES 1 TEKST D

Tijd: 17.13 u

Opzij, opzij, opzij, maak plaats, maak plaats, maak plaats, want ik heb ongelooflijke haast!  
Even kijken.....ooooo..... rennen!!

Mijn trein naar Rotterdam Centraal vertrekt over 4 minuten op spoor 4b!

**Vraag:** *Op welk spoor moet ik zijn als ik de Intercity naar Maastricht moet hebben om 17.38 uur?*

----- ✂

### LES 1 TEKST E

De directeur van basisschool 'De Ballon' wil graag weten hoeveel leerlingen er in elke maand jarig zijn. Op zijn bureau heeft hij een grote ton staan met daarin kleine grabbelcadeautjes en hij wil niet dat de jarige in een lege ton grabbelt. Voor de maand maart heeft hij 22 meisjes cadeautjes gekocht en 19 cadeautjes voor de jongens.

**Vraag:** *Hoeveel meisjes zijn er in september jarig op basisschool 'De Ballon'?*

----- ✂

### LES 1 TEKST F

De leerlingen uit groep 7 van basisschool 'De Kanjers' zijn een uitje met de klas aan het plannen. Er zijn veel leuke ideeën. Alle ideeën zijn in een tabel gezet en de leerlingen hebben hun keuze voor het uitje bekend gemaakt.

De leerlingen gaan naar het uitje met de meeste stemmen. Wat een gezellige middag zal dat worden!

**Vraag:** *Is er een duidelijke voorkeur uit de stemronde gekomen? Kunnen ze nu het uitje plannen?*

----- ✂

### LES 1 TEKST G

Susan gaat vandaag met de bus naar school. Ze moet om 8.30 uur op school zijn. De busreis duurt 10 minuten. Vanaf de bushalte moet zij nog 4 minuten lopen naar school. Susan kijkt op het busschema. Ze heeft bedacht dat ze de bus van 8:04 uur neemt, om op tijd op school te zijn.

**Vraag:** *Susan heeft op zondag een feestje. Het feest begint om 17.30 uur. De reis met de bus duurt 20 minuten en de feestlocatie is dichtbij de bushalte. Hoe laat kan Susan het best de bus nemen?*

----- ✂

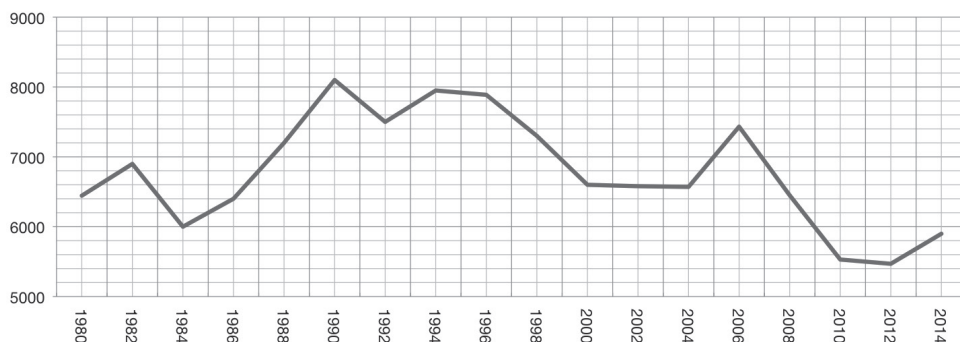
### LES 1 TEKST H

Ralf zit op voetbal. Zaterdag doet hij mee aan een toernooi. Hij zit in team A3. Zijn eerste wedstrijd begint om 10.00 uur. Dan speelt hij op veld B tegen team A4. Om 12.00 uur begint de halve finale. Ralf hoopt dat zijn team de beker wint.

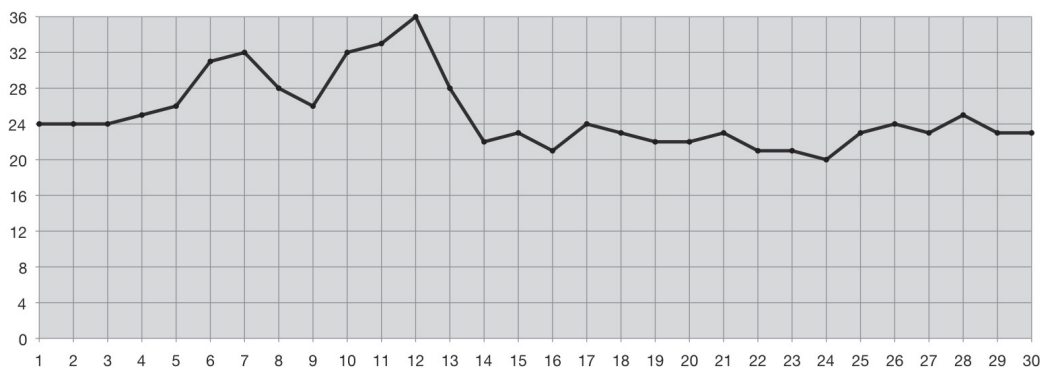
**Vraag:** *Hoeveel wedstrijden speelt Ralf met zijn team tussen 10.00 uur en 12.00 uur?*

----- ✂

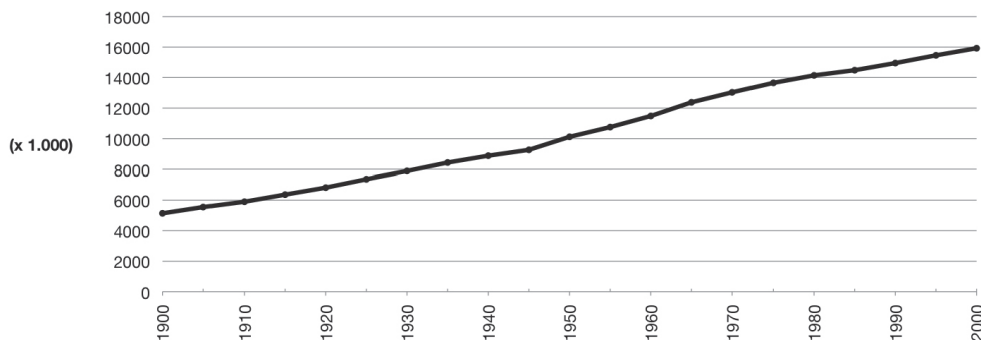
LES 2 GRAFIEK 1



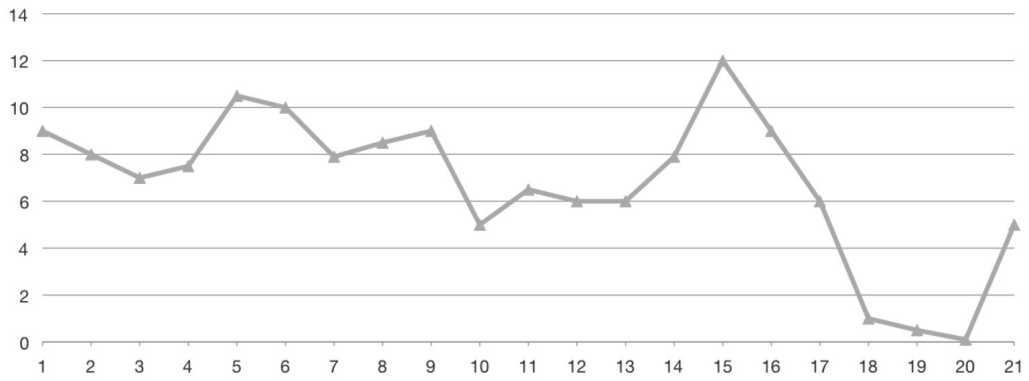
LES 2 GRAFIEK 2



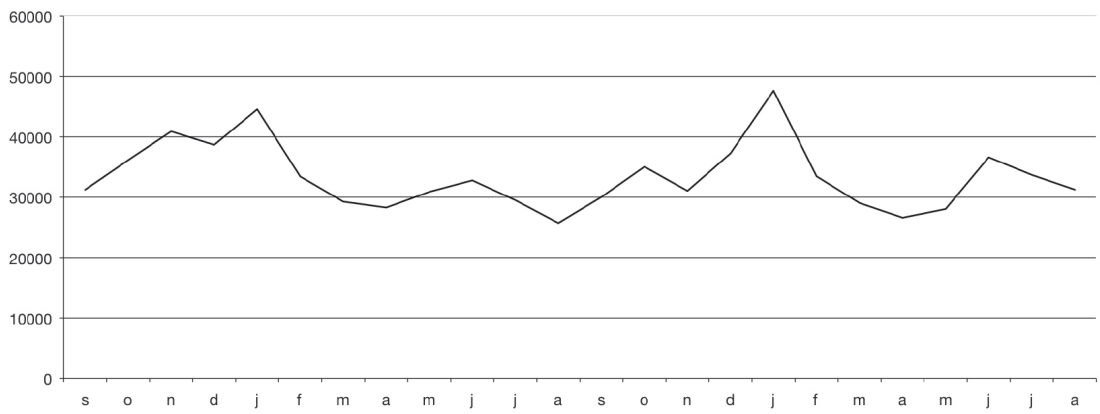
LES 2 GRAFIEK 3



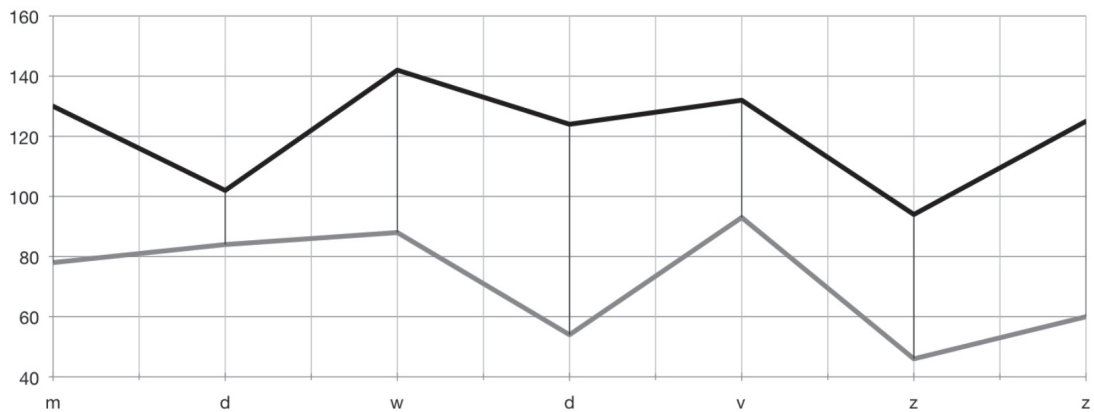
**LES 2 GRAFIEK 4**



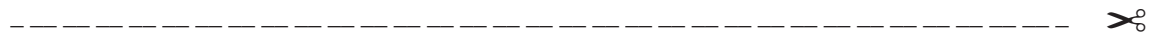
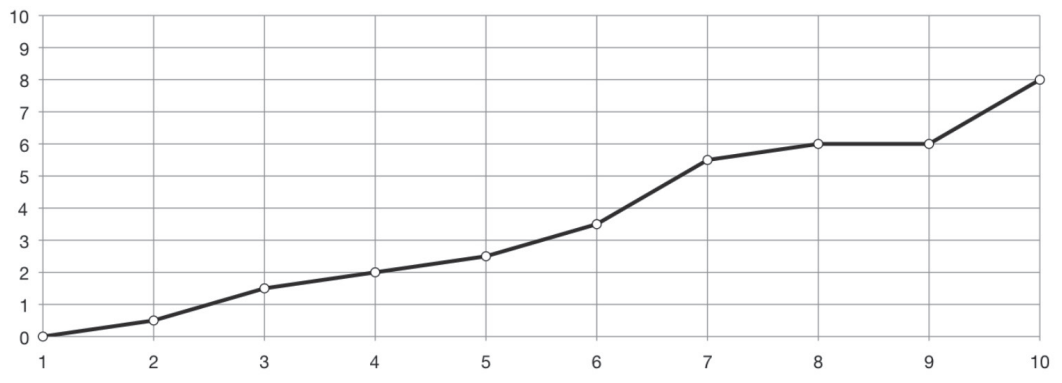
**LES 2 GRAFIEK 5**




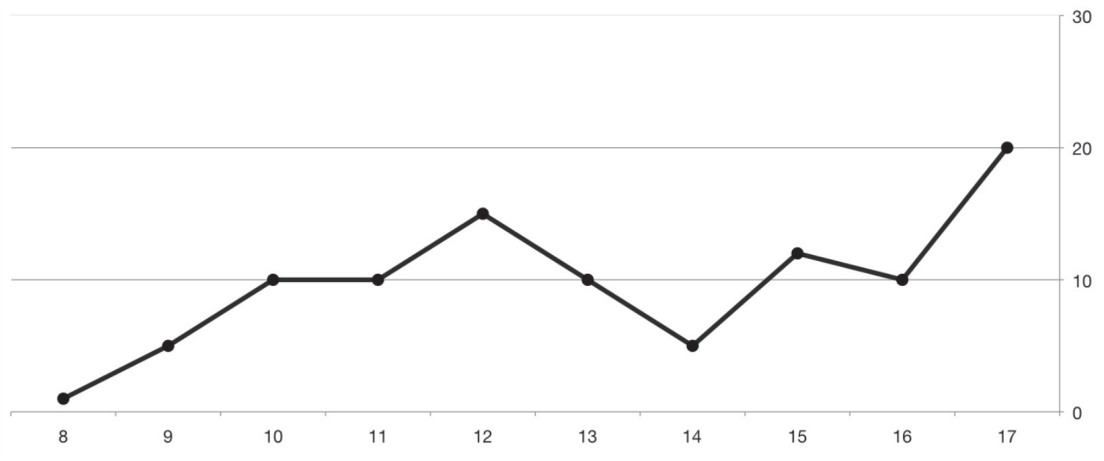
**LES 2 GRAFIEK 6**



**LES 2 GRAFIEK 7**



**LES 2 GRAFIEK 8**





### LES 2 TEKST A

Restaurant Het zonnetje houdt de verkoop van limonade op het terras bij. In de eerste dagen van de maand september daalde de verkoop. Op dag 3 en 4 was de verkoop gelijk. Op de 15e was het warm weer en steeg de verkoop naar twaalf glazen. De verkoop van limonade in week 4 van de maand september staat niet in de grafiek.

----- ✂

### LES 2 TEKST B

Het aantal inwoners in Nederland stijgt. Ondanks de afname van het aantal kinderen dat een vrouw kreeg, steeg het inwonertal in de vorige eeuw. Aan het eind van de 20e eeuw is het bevolkingsaantal drie keer zo groot geworden vergeleken met het begin van die eeuw. Een oorzaak is de toegenomen levensverwachting bij de geboorte (het aantal jaren dat een pasgeborene kan verwachten te leven).

----- ✂

### LES 2 TEST C

We hebben in de periode van 5 tot 13 augustus een huisje aan zee gehuurd. De zee gaf heerlijke verkoeling bij de hoge temperaturen. We hebben genoten van de dagen op het strand. Op de dag voordat we weer naar huis gingen was het tropisch warm. Gelukkig was het op de dag van vertrek minder warm. De temperatuur was die dag in Nederland 8 graden minder dan de dag ervoor.

----- ✂

### LES 2 TEKST D

In deze grafiek worden de cijfers van alle nieuw verkochte personenauto's per maand weergegeven van een aantal jaren. Het aantal verkochte nieuwe auto's is in januari van het laatste jaar het hoogst. De verkoop van de laatste maanden van het laatste jaar staat niet in de grafiek. Het verkoopaantal is beide keren in augustus lager dan in de maand ervoor. Opvallend is dat de verkoopcijfers van de eerste maand en de laatste maand van de grafiek bijna gelijk zijn.

----- ✂

### LES 2 TEKST E

Max is 10 jaar wil graag een computerspel kopen en houdt in een grafiek bij hoeveel hij per week verdient. Hij haalt elke week plastic afval op bij buurtbewoners en brengt dit naar het afvalstation voor €0,50 per zak. Max wordt steeds vaker gebeld. In week 10 heeft hij al 16 zakken gebracht.

----- ✂

**LES 2 TEKST F**

De medewerkers van Schoenenwinkel De Veter willen graag weten op welke momenten het rustig en druk is in de winkel op een doordeweekse dag. De winkel heeft ook een sleutelbalie met een schoenmakerij. Rond het middaguur is het druk. Veel mensen van kantoren uit de buurt komen in hun lunchpauze naar de winkel. Na vieren wordt het ook weer drukker. De medewerkers van De Veter spreken af dat ze rond twee uur om de beurt een korte pauze nemen.

----- ✂

**LES 2 TEKST G**

Ik heb een week lang mijn hartslag opgemeten; eerst in rust en daarna tijdens touwtjespringen. Op dag 3 van mijn meting had ik het hoogste aantal hartslagen per minuut tijdens springen. Het verschil tussen mijn hartslag in rust en tijdens het springen was op dag 2 het kleinst en op dag 3 het grootst.

----- ✂

**LES 2 TEKST H**

In 1990 was het sterftcijfer het hoogst. In dat jaar overleden meer dan 8.000 honden. In de twee jaren erna daalde het aantal sterfgevallen. Tussen 2000 en 2004 bleef het sterftcijfer vrijwel constant.

----- ✂