

Les 10



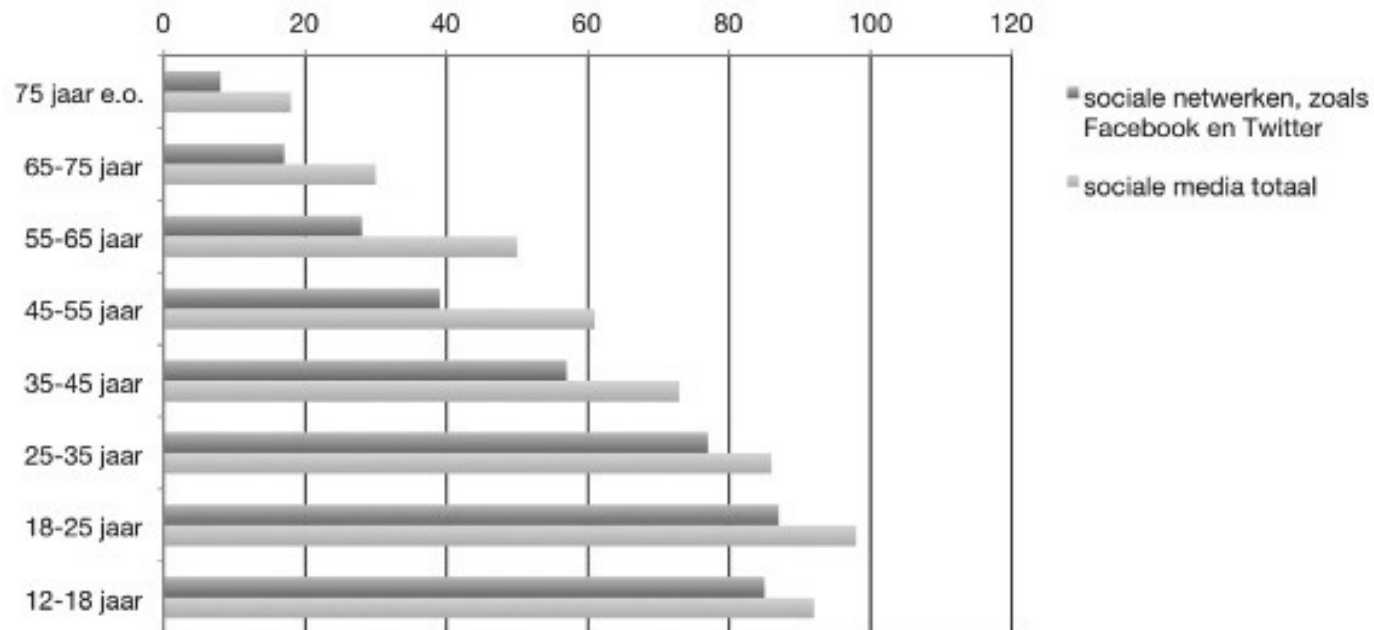
# STUDIEVAARDIGHEDEN

groep 7 - 8

Beuker Onderwijs

## Opgave 1

Social media is een verzamelnaam voor alle internettoepassingen waarmee het mogelijk is om informatie (nieuws, artikelen, muziek, foto's en video's) met elkaar te delen.



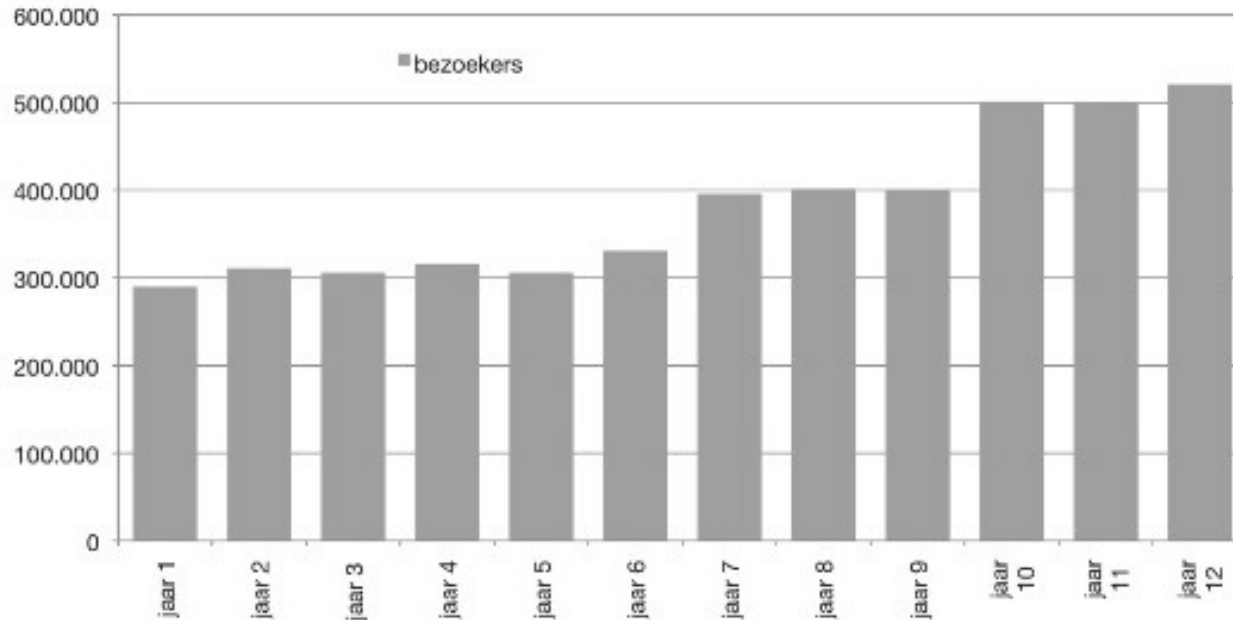
**Opgave 3**

Verjaardagen basisschool De Paardenbloem

	jan	feb	mrt	apr	mei	jun	jul	aug	sept	okt	nov	dec
Jongens	30	15	25	29	15	10	5	19	19	25	25	31
Meisjes	10	21	20	30	16	5	15	16	10	15	26	29

In welke maand zijn er drie keer zoveel meisjes jarig dan jongens?

- A. in februari
- B. in september
- C. in januari
- D. in juli

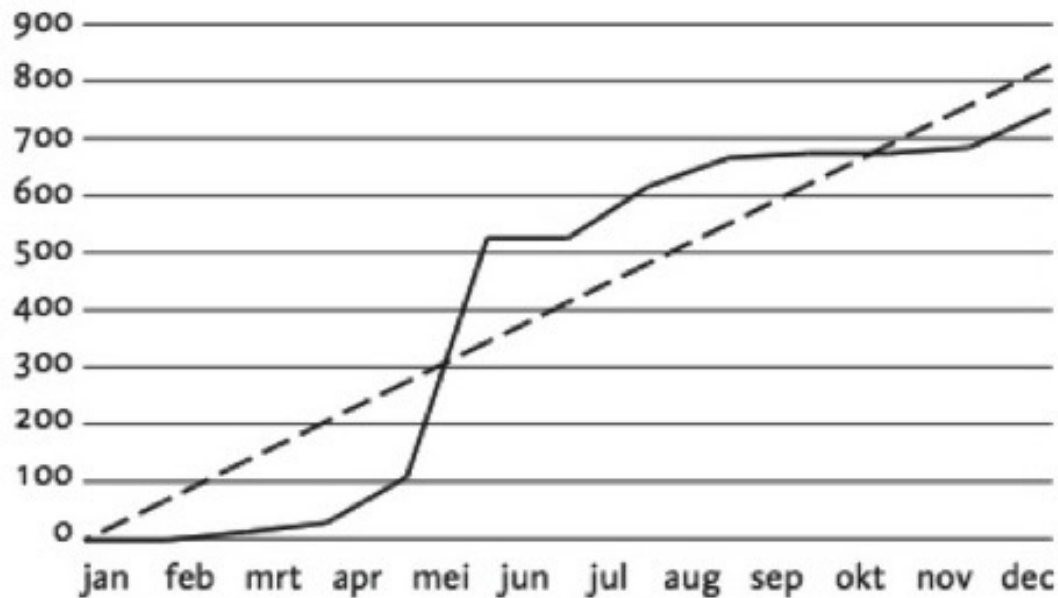
**Opgave 5****Bezoekersaantallen museum MEMO**

Welke vraag kun je met deze grafiek **niet** beantwoorden?

- A. Zijn er tussen het 5e en 8e jaar elk jaar meer bezoekers gekomen naar MEMO?
- B. Wat was het precieze aantal bezoekers in MEMO in jaar 12?
- C. Is het bezoekersaantal in jaar 12 gestegen ten opzichte van het 1e jaar bij MEMO?
- D. In welk jaar is het bezoekersaantal van MEMO gedaald vergeleken met het jaar ervoor?

## Opgave 6

## Verkoop game app



---- = uitgangspunt (verwachte) verkoop game app

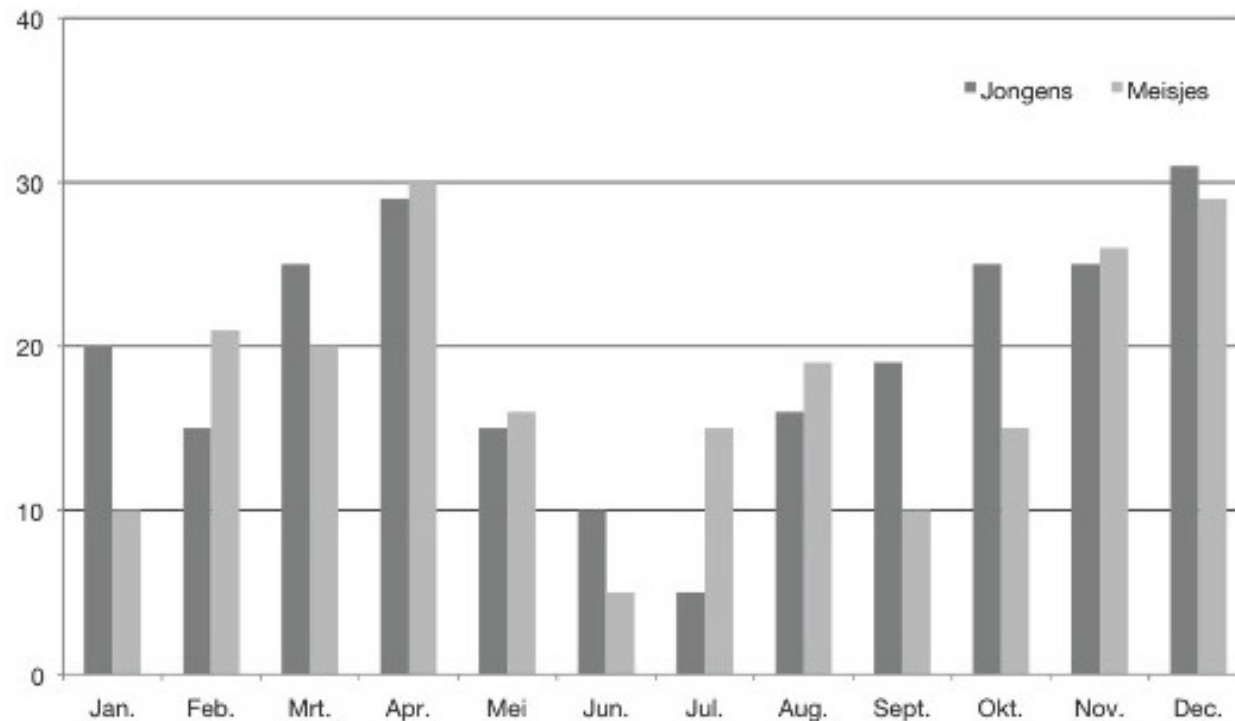
— = verkochte game app

In welke maand was het aantal verkochte game apps voor de tweede keer dit jaar even hoog als het uitgangspunt in die maand?

- A. in oktober      C. in mei  
B. in juli          D. in maart

**Opgave 7**

Deelnemers knutselclub De Knutselaar



In welke maand had de knutselclub De Knutselaar in totaal 40 deelnemers?

- A. in januari      C. in juni  
B. in december    D. oktober

**Opgave 8**

## Verkoop en verhuur huizen per stad


Amsterdam	 
Almere	 
Utrecht	 
Rotterdam	 
Den Haag	 



 50 koophuizen  
  50 huurhuizen

In Den Haag zijn er meer huizen verhuurd dan verkocht. Hoeveel meer?  
 \_\_\_\_\_ huizen.

## Opgave 9

Opvangcentrum Het overwinterhotel

	binnenverblijf		buitenverblijf	
	gezond	ziek	gezond	ziek
januari				
februari				
maart				
april				
mei				

 = 10     = 10

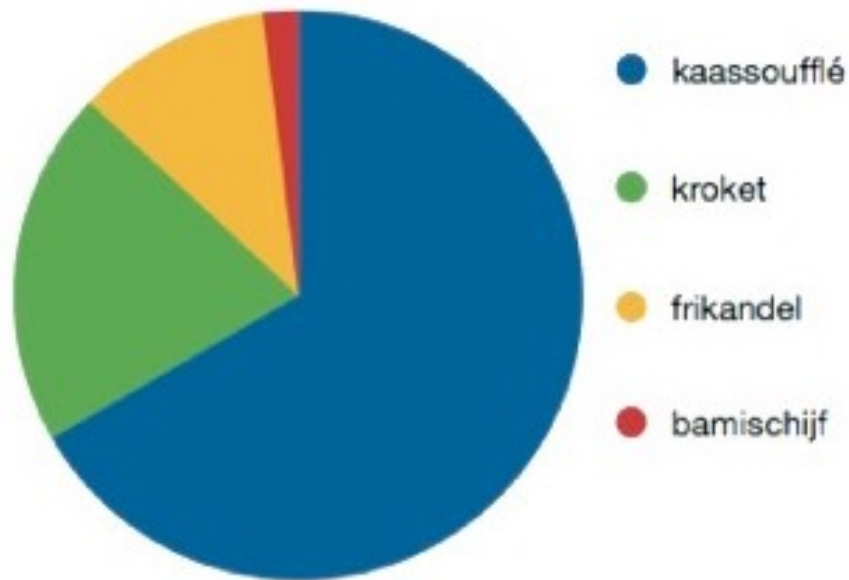
Peter werkt bij opvangcentrum Het overwinterhotel. Hij telt elke maand hoeveel gezonde en zieke dieren worden opgevangen in de beide verblijven. Hij zegt: 'Er zijn deze maand evenveel zieke eenden als zieke hazen.'  
In welke maand zou Peter dit gezegd kunnen hebben?

- A. januari of maart      C. januari of april  
B. februari of mei      D. maart of april



**Opgave 10**

Snacks van snackbar 't Patatje



Welke snack wordt door ongeveer twee derde van de klanten gekocht?

- A. kaassoufflé      C. frikandel  
B. kroket            D. bamischijf

**Opgave 11**

Uitgaven per week in euro

	jaar 1	jaar 2	jaar 3	jaar 4
cadeau	6,10	7,40	5,30	5,90
boodschappen	40,50	38,60	39,40	40,10
telefoon	4,30	6,20	7,30	7,60
kleding	10,90	8,30	8,70	9,90
sport	10,00	10,00	7,50	8,50
uit eten	8,15	9,20	9,70	8,90
snoep	2,40	4,80	2,40	4,80

Noah heeft vier weken bijgehouden waaraan hij geld heeft uitgegeven.

Waaraan heeft hij steeds meer uitgegeven?

- A. sport                      C. boodschappen  
B. telefoon                  D. uit eten