

Les 10



# STUDIEVAARDIGHEDEN

groep 7 - 8



Beuker Onderwijs

# QUIZ

open vragen



# Vraag 1

Attracties Pretpark Leerlab

Looptijd attracties (minuten)	Reuzenrad	Achtbaan		Glijbaan	Schip	Kartbaan
Reuzenrad		10	13	5	5	15
Achtbaan	10		12	7	18	3
Waterbaan	13	12		6	6	7
Glijbaan	5	7	6		3	5
Schip		18	6	3		11
Kartbaan	15	3	7	5	11	

Hoe noem je ‘gegevens van links naar rechts’ in een tabel?

### Attracties Pretpark Leerlab

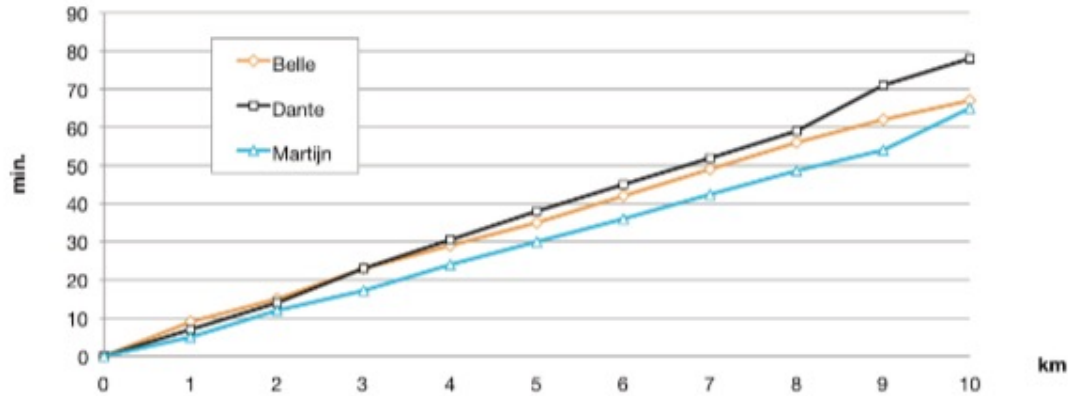
Looptijd attracties (minuten)	Reuzenrad	Achtbaan		Glijbaan	Schip	Kartbaan
Reuzenrad		10	13	5	5	15
Achtbaan	10		12	7	18	3
Waterbaan	13	12		6	6	7
Glijbaan	5	7	6		3	5
Schip		18	6	3		11
Kartbaan	15	3	7	5	11	

Hoe noem je ‘gegevens van links naar rechts’ in een tabel?

De rij

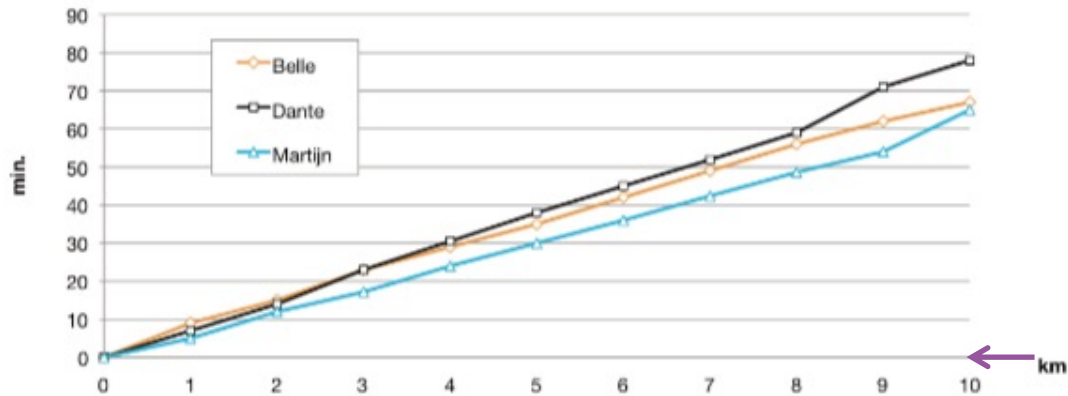
# Vraag 2

Looptijd hardloopwedstrijd 10 km



Hoe noem je de lijn bij de pijl?

Looptijd hardloopwedstrijd 10 km



Hoe noem je de lijn bij de pijl?

De horizontale as

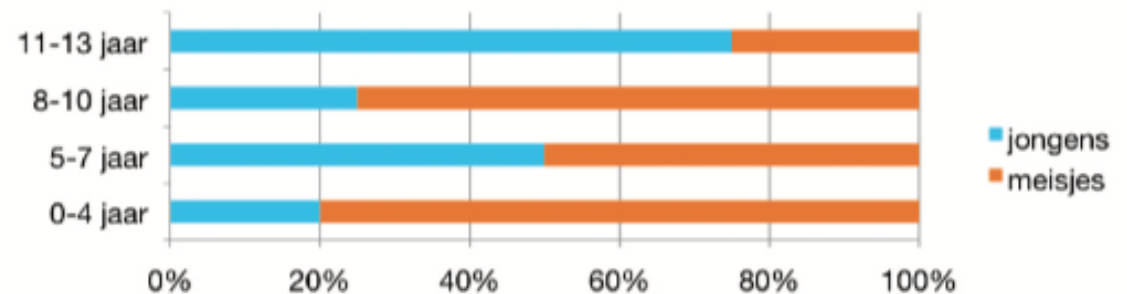
# Vraag 3

Hoe noem je een grafiek met balken?  
Gebruik het andere woord voor grafiek.

Hoe noem je een grafiek met balken?  
Gebruik het andere woord voor grafiek.


## De staafdiagram

Aantal bezoekers bibliotheek per leeftijdsgroep





# Vraag 4

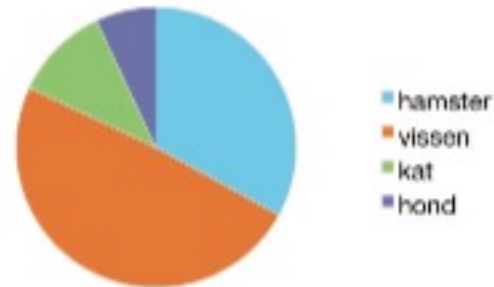


Van welke grafiek kun je (het best) snel zien hoe de verdeling is?

Van welke grafiek kun je (het best) snel zien hoe de verdeling is?

Welk huisdier heeft u?




De cirkeldiagram



# Vraag 5

Hoe noem je een grafiek met plaatjes erin?

Verkoop CD's

Winkel A	
Winkel B	
Winkel C	
Winkel D	

 = 100 cd's

Hoe noem je een grafiek met plaatjes erin?


## De beeldgrafiek

Verkoop CD's



 = 100 cd's

# Vraag 6



Wat staat bij een lijngrafiek meestal op de horizontale as?



Wat staat bij een lijngrafiek meestal op de horizontale as?

De tijd

# Vraag 7

Teken een windroos.

Teken een windroos.





# Vraag 8

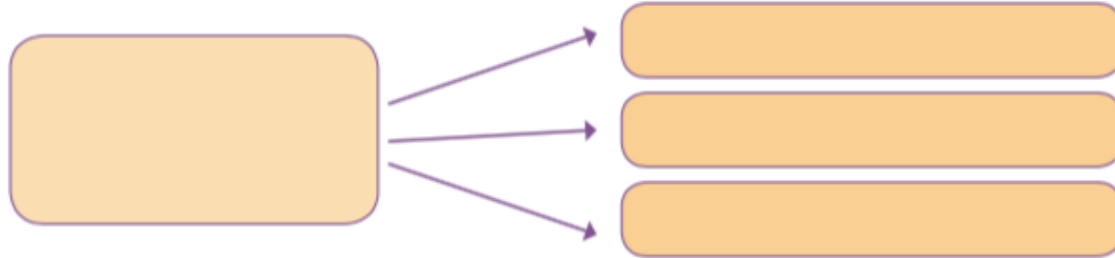
Geef een kenmerk van een boslandschap.



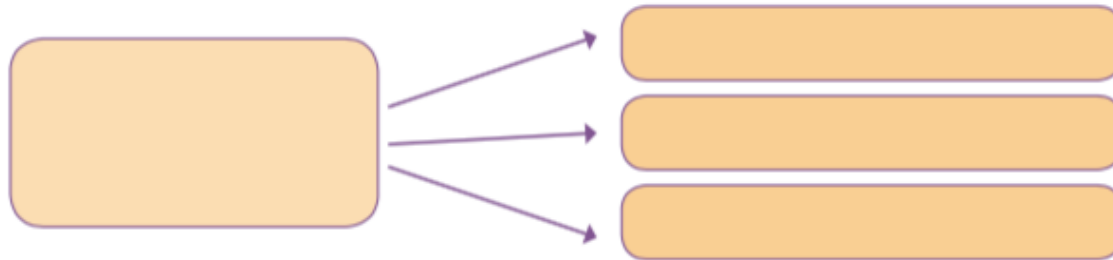
Geef een kenmerk van een boslandschap.

Er zijn veel bomen.

# Vraag 9



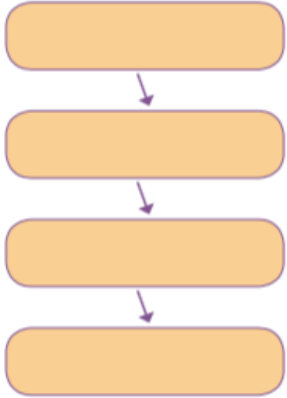
Wat laten de pijlen in dit schema zien?



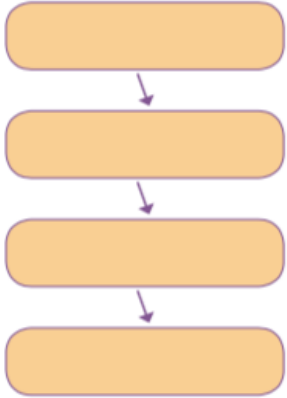
Wat laten de pijlen in dit schema zien?

**Kenmerken: een lijstje met dingen die horen bij het onderwerp**

# Vraag 10



Wat laten de pijlen in dit schema zien?



Wat laten de pijlen in dit schema zien?

**Stappen:** een lijstje met dingen die op volgorde gebeuren.